

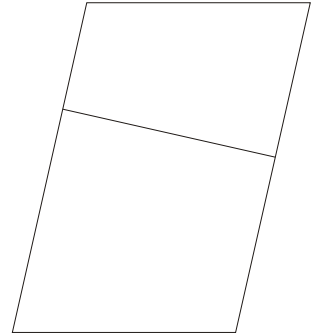
Parallelelogramme: Flächenberechnung

Streiche die Parallelogramme durch, in denen die Höhen falsch eingezeichnet wurden. Berechne bei den restlichen Parallelogrammen Umfang und Fläche!
 $u = 2 \cdot a + 2 \cdot b$ $A = g \cdot h$ (g ist immer die Seite, auf der die Höhe steht)

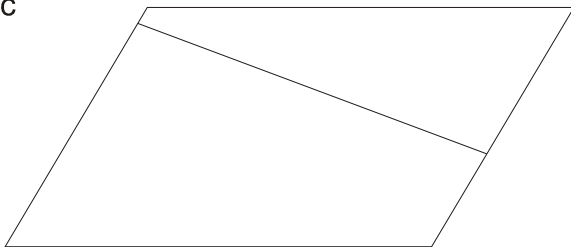
a



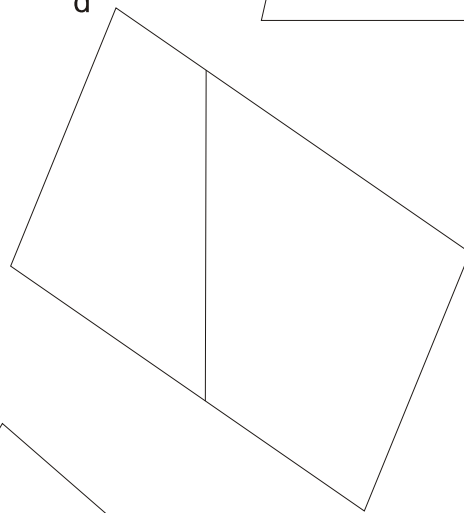
b



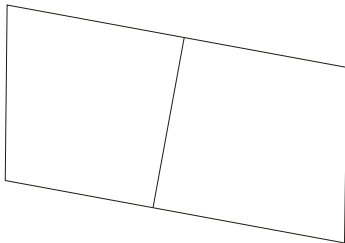
c



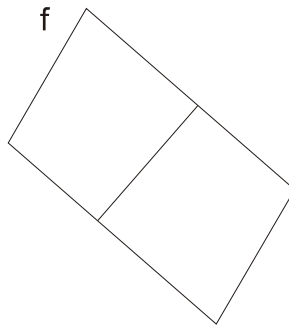
d



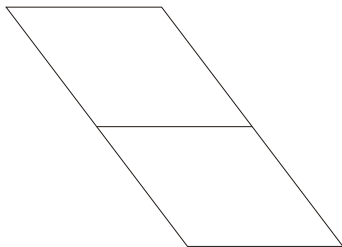
e



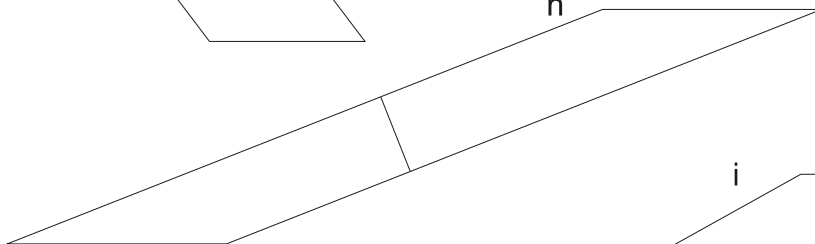
f



g



h



i

