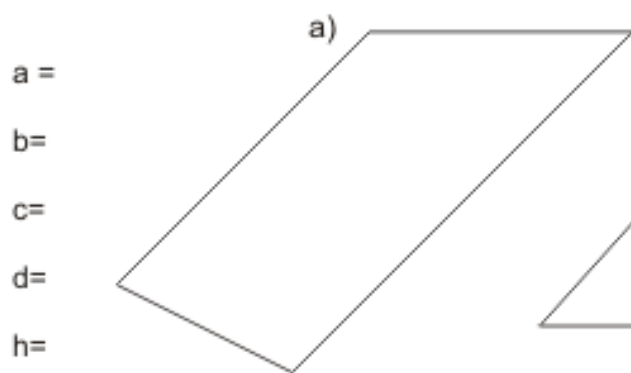


Trapeze



a =
b =
c =
d =
h =



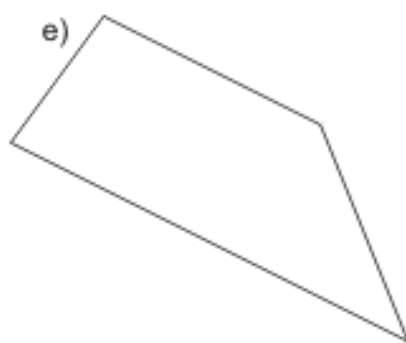
a =
b =
c =
d =
h =



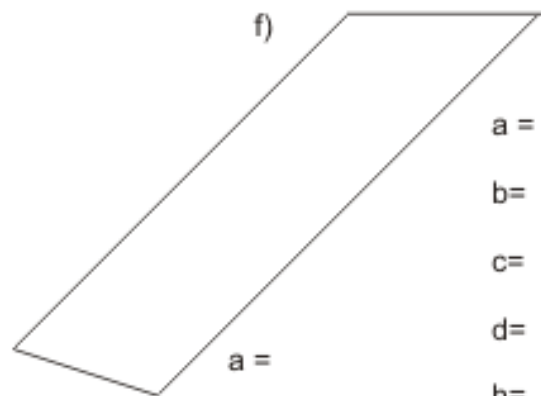
a =
b =
c =
d =
h =



a =
b =
c =
d =
h =



a =
b =
c =
d =
h =



a =
b =
c =
d =
h =

a =
b =
c =
d =
h =



Bezeichne die Seiten des Trapezes mit den Buchstaben a, b, c, d.
Nun zeichne die Höhe ein! (Die Höhe ist die senkrechte Verbindung zwischen den beiden parallelen Seiten)
Miss die Seiten und die Höhe!
Nun berechne Umfang und Fläche des Trapezes!